

8 класс

Первый тур (10 минут; каждая задача – 6 баллов).

1.1. Для любых чисел a и b операция $a \otimes b$ определена следующим образом: $a \otimes b = a^2 - b^2$. Вычислите: $(2011 \otimes 2010) \otimes (2010 \otimes 2009)$.

Ответ: 16080.

1) $2011 \otimes 2010 = 2011^2 - 2010^2 = (2011 - 2010)(2011 + 2010) = 4021$;

2) $2010 \otimes 2009 = 2010^2 - 2009^2 = (2010 - 2009)(2010 + 2009) = 4019$;

3) $4021 \otimes 4019 = 4021^2 - 4019^2 = (4021 - 4019)(4021 + 4019) = 2 \cdot 8040 = 16080$.

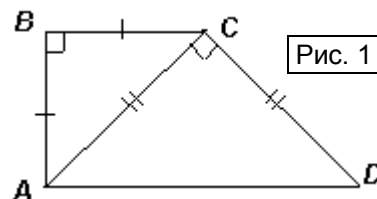
1.2. Диагональ трапеции делит ее на два прямоугольных равнобедренных треугольника. Сравните длину этой диагонали и среднюю линию трапеции.

Ответ: средняя линия больше диагонали.

Пусть диагональ AC трапеции $ABCD$ делит ее на два прямоугольных равнобедренных треугольника: ABC и ACD .

Заметим, что AC не может быть общим катетом этих треугольников, так как в этом случае $ABCD$ – треугольник или параллелограмм. Если же AC – их общая гипотенуза, то $ABCD$ – прямоугольник, что также не удовлетворяет условию.


Таким образом, в одном треугольнике сторона AC является катетом, а в другом – гипотенузой (см. рис. 1). Пусть $BC = a$, тогда $AC = a\sqrt{2}$, $AD = 2a$. Значит, длина средней линии трапеции равна $1,5a$. Так как $1,5 > \sqrt{2}$, то длина средней линии больше, чем длина AC .



1.3. За один ход можно выбрать произвольный квадрат 2×2 на доске 4×4 с шахматной раскраской и изменить цвет каждой клетки этого квадрата на противоположный. Можно ли за несколько ходов сделать так, чтобы все клетки доски оказались одного цвета?

Ответ: да, можно.

Например, возможна такая последовательность ходов, в результате которых все клетки доски станут черными (см. рис. 2): 1) перекрасим левый верхний и правый нижний квадраты (в любом порядке); 2) перекрасим два квадрата на центральных вертикалях; 3) перекрасим два квадрата на центральных горизонталях.



Разумеется, существуют и другие примеры.

Второй тур (15 минут; каждая задача – 7 баллов).

2.1. Среди чисел x , y , a и b нет одинаковых, при этом выполняется равенство $\frac{x+a}{x+b} = \frac{y+b}{y+a}$. Найдите сумму: $x + y + a + b$.

Ответ: 0.

Первый способ. По основному свойству пропорции: $(x + a)(y + a) = (x + b)(y + b)$. Раскроем скобки и приведем подобные слагаемые: $ax + ay + a^2 = bx + by + b^2$. Переносим слагаемые в одну часть, группируем и раскладываем на множители: $(a - b)x + (a - b)y + (a - b)(a + b) = 0$; $(a - b)(x + y + a + b) = 0$. Так как $a \neq b$, то $x + y + a + b = 0$.

Второй способ. Пусть $\frac{x+a}{x+b} = \frac{y+b}{y+a} = k$. Тогда $x + a = k(x + b)$ и $y + b = k(y + a)$. Сложив почленно эти равенства, получим: $x + y + a + b = k(x + y + a + b)$, то есть $(x + y + a + b)(k - 1) = 0$. Заметим, что $k \neq 1$ (иначе $x + a = x + b$, что невозможно, так как $a \neq b$). Следовательно, $x + y + a + b = 0$.

Третий способ. Поменяем местами средние члены данной пропорции и прибавим по 1 к обеим частям равенства: $\frac{x+a}{y+b} + 1 = \frac{x+b}{y+a} + 1$. Приведем каждую часть равенства к одному знаменателю, получим: $\frac{x+a+y+b}{y+b} = \frac{x+b+y+a}{y+a}$. Так как $a \neq b$, то знаменатели полученных дробей различны, следовательно, $x + y + a + b = 0$.

Четвертый способ. Вычтем из обеих частей данной пропорции по 1 и приведем каждую часть равенства к одному знаменателю: $\frac{x+a}{x+b} - 1 = \frac{y+b}{y+a} - 1 \Leftrightarrow \frac{a-b}{x+b} = \frac{b-a}{y+a}$.

Следовательно, $(a-b)\left(\frac{1}{x+b} + \frac{1}{y+a}\right) = 0$. Учитывая, что $a \neq b$, получим: $\frac{x+y+a+b}{(x+b)(y+a)} = 0$,

значит, $x + y + a + b = 0$.

2.2. В треугольнике ABC проведены медиана AM , высота BH и биссектриса CL . Точка K пересечения отрезков CL и MH является серединой каждого из них. Найдите углы треугольника.

Ответ: три угла по 60° .

Докажем, что треугольник ABC – равносторонний (см. рис. 3).

Первый способ. Из условия задачи следует, что $CK = KL$ и $CM = MB$. Тогда MK – средняя линия треугольника BCL , то есть MH – средняя линия треугольника ABC , поэтому, $AH = HC$. Значит, в треугольнике ABC высота BH является медианой, следовательно, $AB = BC$.

Так как $HK = KM$ и CK – биссектриса угла ACB , то треугольник HCM – равнобедренный ($HC = CM$). Учитывая, что MH – средняя линия треугольника ABC , получим, что $AC = BC$. Таким образом, $AB = BC = AC$, то есть треугольник ABC – равносторонний.

Второй способ. Из условия задачи следует, что диагонали четырехугольника $CMLH$ точкой пересечения делятся пополам, значит, $CMLH$ – параллелограмм. Так как M – середина BC и $ML \parallel AC$, то L – середина AB . Аналогично, так как $LH \parallel BC$, то H – середина AC . Из того, что высота BH и биссектриса CL являются также и медианами треугольника ABC , следует, что этот треугольник равносторонний.

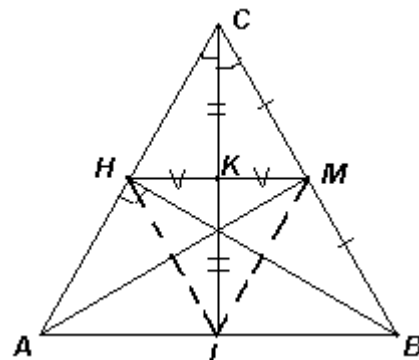


Рис. 3

2.3. Один из собеседников вчера сказал: «Если год, когда мне было 45 лет, умножить на год, когда мне было 43 года, а то, что получится, разделить на год моего рождения, то получится год, когда ...» – «Хватит!» – перебил его другой. «Я и так могу назвать год твоего рождения!». Назовите его и вы.

Ответ: 1935.

Пусть x – год рождения первого собеседника, который должен выражаться четырехзначным числом. Выражение $(x + 45)(x + 43) = x^2 + 88x + 45 \cdot 43 = x(x + 88) + 1935$ делится на x без остатка, если x является натуральным делителем числа 1935. Единственным четырехзначным делителем числа 1935 является само это число.

Отметим, что если бы такой разговор произошел в первом тысячелетии, то ответы были бы другими: 1, 3, 5, 9, 15, 43, 45, 129, 215, 387 или 645.

Третий тур (20 минут; каждая задача – 8 баллов).

3.1. В диване живут клопы и блохи. Если в несколько раз станет больше клопов, то всего насекомых станет 2012, а если во столько же раз станет больше блох (а количество клопов не изменится), то всего насекомых будет 2011. Сколько насекомых в диване сейчас?

Ответ: 1341.

Пусть в диване живет x клопов и y блох, тогда $\begin{cases} nx + y = 2012, \\ x + ny = 2011 \end{cases}$. Вычитая из первого

уравнения системы второе, получим: $(n - 1)(x - y) = 1$. Так как число $(n - 1)$ – натуральное, а число $(x - y)$ – целое, то это равенство выполняется тогда и только тогда,

когда $\begin{cases} n - 1 = 1, \\ x - y = 1 \end{cases}$. Следовательно, $n = 2$, $x = y + 1$. Подставляя полученные значения в

любое из уравнений, находим: $\begin{cases} y = 670, \\ x = 671 \end{cases}$, то есть $x + y = 1341$.

Получив, что $n = 2$, можно, не находя значения x и y по отдельности, почленно сложить исходные уравнения, тогда $x + y = \frac{4023}{3} = 1341$.

3.2. Треугольник ABC – равносторонний. На сторонах BC и AB выбраны точки E и D соответственно так, что $BE : EC = AD : DB = 1 : 2$. Найдите радиус окружности, описанной около треугольника ABC , если $ED = 1$.

Ответ: 1.

В равностороннем треугольнике центр O описанной окружности совпадает с точкой пересечения медиан. Далее можно рассуждать по-разному.

Первый способ. Пусть CM – медиана данного треугольника (см. рис. 4а). Тогда, по теореме о точке пересечения медиан $CO : OM = 2 : 1 = CE : EB$. Следовательно, $OE \parallel BM$. Аналогично доказывается, что $OD \parallel AC$ ($AD = \frac{1}{3}AB$ и $AM = \frac{1}{2}AB$, значит, $MD : DA = MO : OC = 1$

: 2). Следовательно, $\angle ODB = \angle CAB = 60^\circ$.

Так как в трапеции $BEOD$ равны углы при основании, то $BEOD$ – равнобокая трапеция. Следовательно, $OB = ED = 1$.

Второй способ. Пусть AF – медиана и высота данного треугольника (см. рис. 4б). Учитывая, что $BE = \frac{1}{3}BC$ и

$BF = \frac{1}{2}BC$, получим $BE : EF = AO : OF = 2 : 1$. Следовательно,

$OE \parallel AB$. Из того, что $BE : EF = BD : DA = 2 : 1$, получим, что $ED \parallel OA$. Следовательно, $EOAD$ – параллелограмм, значит, $OA = ED = 1$.

3.3. Известно, что $a^2 = \overline{\dots 7b}$. Какие значения может принимать b ?

Ответ: $b = 6$.

Первый способ. При возведении в квадрат однозначного числа нельзя получить в разряде десятков цифру 7, что проверяется непосредственным перебором. При этом, нечетная цифра в разряде десятков получается только в двух случаях: $a = 4$ ($4^2 = 16$) или $a = 6$ ($6^2 = 36$).

Пусть a – двузначное число, тогда $a = \overline{pq} = 10p + q$. Значит, $a^2 = (10p + q)^2 = 100p^2 + 20pq + q^2$. Последняя цифра числа a^2 совпадает с последней цифрой числа q^2 , а предпоследняя цифра этого числа определяется суммой цифр, стоящих в разряде десятков у двух чисел: $20pq$ и q^2 . Так как у числа $20pq$ эта цифра – четная, то для того, чтобы в разряде десятков числа a^2 оказалась цифра 7, необходимо, чтобы у числа q^2 эта цифра была нечетной. Это достигается только тогда, когда $q = 4$ или $q = 6$. В обоих случаях последняя цифра числа будет 6. Это возможно, например, при $q = 4$, $p = 2$: $24^2 = 576$.

Рис. 4а

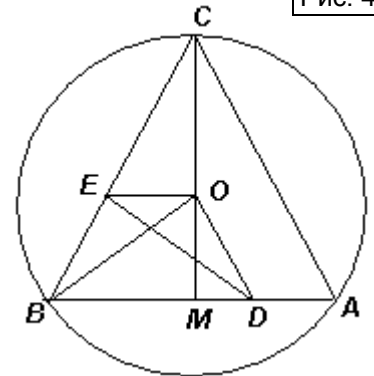
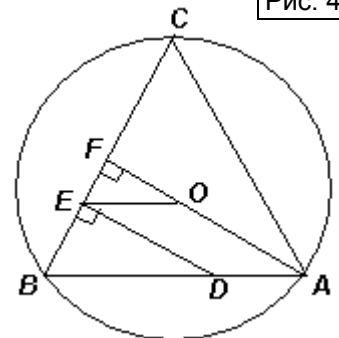


Рис. 4б



Наличие в числе a более старших, чем десятки, разрядов не оказывает влияния на две последние цифры числа a^2 .

Другие возможные примеры (a – двузначное число): $26^2 = 676$ ($q = 6, p = 2$); $74^2 = 5476$ ($q = 4, p = 7$); $76^2 = 5776$ ($q = 6, p = 7$).

Второй способ. Воспользуемся двумя утверждениями, первое из которых доказывается непосредственным перебором, а второе – перебором остатков от деления на 4:

1) Квадрат целого числа может оканчиваться только на цифры 0, 1, 4, 5, 6 и 9.

2) Остаток от деления квадрата целого числа на 4 может быть равен только 0 или 1.

Из первого утверждения следует, что достаточно рассмотреть следующие варианты последних двух цифр: 70, 71, 74, 75, 76, 79.

Остаток от деления целого числа на 4 зависит только от двух последних цифр в записи числа. Следовательно, числа, оканчивающиеся на 70 или 74, при делении на 4 дают остаток 2, а числа, оканчивающиеся на 71, 75 или 79, – остаток 3. Значит, такие числа не могут быть квадратами целых чисел.

Остается единственный вариант: $b = 6$, который возможен. Например, $24^2 = 576$.

Отметим, что из двух приведенных утверждений следует и такой факт: квадрат целого числа не может оканчиваться двумя нечетными цифрами, что может упростить перебор при обоих способах решения.

Четвертый тур (25 минут; каждая задача – 9 баллов).

4.1. Про целые числа a, b и c известно, что $a + b + c = 1$. Докажите, что число $(a + bc)(b + ac)(c + ab)$ является точным квадратом.

Из того, что $a + b + c = 1$, следует, что $a = 1 - b - c, b = 1 - a - c, c = 1 - a - b$. Тогда $(a + bc)(b + ac)(c + ab) = (1 - b - c + bc)(1 - a - c + ac)(1 - a - b + ab) = (1 - b)(1 - c)(1 - a)(1 - c)(1 - a)(1 - b) = ((a - 1)(b - 1)(c - 1))^2$.

Так как числа a, b и c – целые, то число $(a - 1)(b - 1)(c - 1)$ также является целым, что и требовалось.

4.2. В прямоугольном треугольнике ABC угол C – прямой. Точки D и E расположены на гипотенузе AB так, что $BD = BC$ и $AE = AC$. Из точки D провели перпендикуляр DG на катет AC , а из точки E – перпендикуляр EF на катет BC . Докажите, что $DE = EF + DG$.

Проведем отрезки CD и CE , а также высоту CH данного треугольника (см. рис. 5). Точка H лежит между точками D и E , так как углы CDE и CED – острые (они являются углами при основаниях в равнобедренных треугольниках BCD и CAE соответственно).

Из равнобедренности треугольника CAE и параллельности прямых AC и EF получим, что $\angle AEC = \angle ACE = \angle FEC$. Тогда прямоугольные треугольники CFE и CHE равны (по гипотенузе и острому углу). Следовательно, $EF = EH$.

Аналогично, из равнобедренного треугольника BCD и параллельности прямых BC и DG : $\angle BDC = \angle BCD = \angle GDC$, значит, равны также прямоугольные треугольники CGD и CHD . Следовательно, $DG = DH$.

Таким образом, $DE = DH + HE = DG + EF$, что и требовалось доказать.

Отметим, что из доказанного равенства двух пар треугольников следует также, что если «перегнуть» чертеж по прямым CD и CE , то точки G и F совместятся с точкой H , из чего и следует утверждение задачи.

4.3. Какое наименьшее количество точек можно отметить на поверхности куба так, чтобы количество точек на любых двух гранях куба различалось? (Напомним, что поверхность куба состоит из шести граней, каждое ребро принадлежит двум граням, а каждая вершина – трем.)

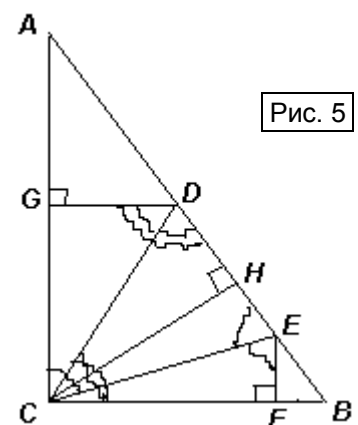


Рис. 5

Ответ: 6 точек.

Для того, чтобы количество точек на поверхности куба было наименьшим, необходимо, чтобы количество точек на шести его гранях было соответственно равно 0, 1, 2, 3, 4 и 5. Значит, меньше, чем 5 точек поставить невозможно. Докажем, что пятью точками обойтись нельзя.

Действительно, рассмотрим грань, на которой 5 точек. Для того, чтобы на другой грани было 4 точки, необходимо, чтобы эти 4 точки располагались на общем ребре этих двух граней. Рассмотрим третью грань, имеющую общую вершину с двумя уже рассмотренными. На ней не может быть более двух точек (одна – в этой вершине, другая – не лежащая на общем ребре первых двух граней). Тогда на других гранях и подавно не может быть более двух точек, то есть грань с тремя точками отсутствует.

Приведем пример расстановки шести точек, удовлетворяющей условию (см. рис. 6). В верхней грани куба нет точек, в нижней – пять, в левой – одна, в задней – две, в передней – три, в правой – четыре.

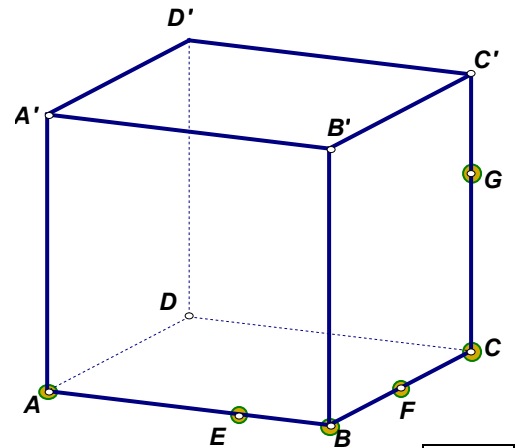


Рис. 6