

## 11 класс

### Первый тур (10 минут; каждая задача – 6 баллов).

1.1. Решите систему: 
$$\begin{cases} x - y \geq z, \\ x^2 + 4y^2 + 5 = 4z. \end{cases}$$

**Ответ:** (2; -0,5; 2,5).

**Решение.** Умножим обе части неравенства на 4 и подставим в него значение  $4z$  из уравнения. Получим:  $x^2 + 4y^2 + 5 \leq 4x - 4y \Leftrightarrow x^2 - 4x + 4 + 4y^2 + 4y + 1 \leq 0 \Leftrightarrow$

$$(x-2)^2 + (2y+1)^2 \leq 0 \Leftrightarrow \begin{cases} x = 2, \\ y = -0,5. \end{cases}$$

Подставляя найденные значения  $x$  и  $y$  в уравнение,

получим, что  $z = 2,5$ .

1.2. Существует ли выпуклый 1000-угольник, у которого все углы выражаются целыми числами градусов?

**Ответ:** нет, не существует.

**Решение.** Если внутренние углы многоугольника выражаются целыми числами, то и его внешние углы – целые числа. Но у любого выпуклого многоугольника сумма внешних углов равна  $360^\circ$ , а сумма тысячи любых натуральных чисел больше, чем 360.

1.3. Существует ли такая цифра  $a$ , что  $\overline{aaa(a-1)} = (a-1)^{a-2}$ .

**Ответ:** да, существует.

**Решение.** Действительно, при  $a = 7$  получим верное равенство  $7776 = 6^5$ .

Указанное значение  $a$  – единственное. Действительно, при  $a < 6$  правая часть равенства содержит меньше четырех цифр, а при  $a > 7$  – больше четырех цифр. Кроме того, при  $a = 6$  правая часть делится на 25, а левая часть на 25 не делится.

### Второй тур (15 минут; каждая задача – 7 баллов).

2.1. Числовая функция  $f$  такова, что для любых  $x$  и  $y$  выполняется равенство  $f(x+y) = f(x) + f(y) + 80xy$ . Найдите  $f(1)$ , если  $f(0,25) = 2$ .

**Ответ:** 38.

**Решение.** Из условия задачи следует, что  $f(0,5) = f(0,25 + 0,25) = f(0,25) + f(0,25) + 80 \cdot 0,25 \cdot 0,25 = 2 + 2 + 5 = 9$ . Аналогично,  $f(1) = f(0,5 + 0,5) = f(0,5) + f(0,5) + 80 \cdot 0,5 \cdot 0,5 = 9 + 9 + 20 = 38$ .

2.2. Четырёхугольник  $ABCD$  – вписанный. Лучи  $AB$  и  $DC$  пересекаются в точке  $M$ , а лучи  $BC$  и  $AD$  – в точке  $N$ . Известно, что  $BM = DN$ . Докажите, что  $CM = CN$ .

**Решение.** Пусть  $\angle MBC = \alpha$ , тогда  $\angle CDN = \angle ABC = 180^\circ - \alpha$  (см. рис. 1а). Далее можно рассуждать различными способами.

Первый способ. По теореме синусов в треугольниках  $BCM$  и  $DCN$ :  $\frac{CM}{\sin \alpha} = \frac{BM}{\sin \angle BCM}$  и

$$\frac{CN}{\sin(180^\circ - \alpha)} = \frac{DN}{\sin \angle DCN}.$$

Так как  $BM = DN$ ,  $\angle BCM = \angle DCN$  и  $\sin(180^\circ - \alpha) = \sin \alpha$ , то  $CM = CN$ .

Отметим, что вместо теоремы синусов можно использовать такой прием: «отрежем» треугольник  $DCN$  и «приложим» его к треугольнику  $BCM$ , совместив равные отрезки  $DN$  и  $BM$  (см. рис. 1б). Так как  $\angle MBC + \angle CDN = 180^\circ$ , то в результате этого образуется новый треугольник, в котором равны углы при вершинах  $C$  и  $C'$ , значит, он – равнобедренный. Следовательно,  $CM = CN$ .

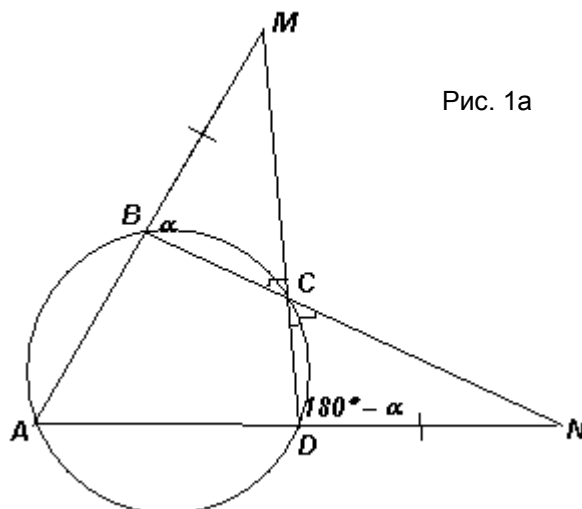


Рис. 1а

Второй способ.

Опишем окружности около треугольников  $BCM$  и  $DCN$  (см. рис. 1в). Так как  $BM = DN$  и  $\angle BCM = \angle DCN$ , то радиусы этих окружностей равны. Докажем, что вторая точка пересечения этих окружностей лежит на отрезке  $MN$ . Действительно, пусть окружность, описанная около треугольника  $BCM$ , пересекает  $MN$  в точке  $P$ . Тогда  $\angle NPC = \angle MBC = \alpha$ , значит точка  $P$  лежит на окружности, описанной около треугольника  $DCN$ .

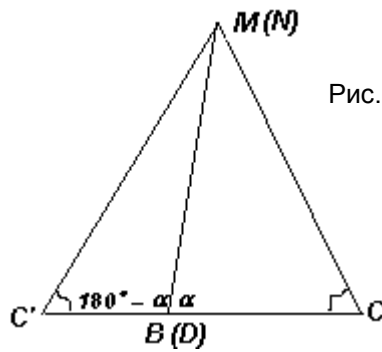


Рис. 1в

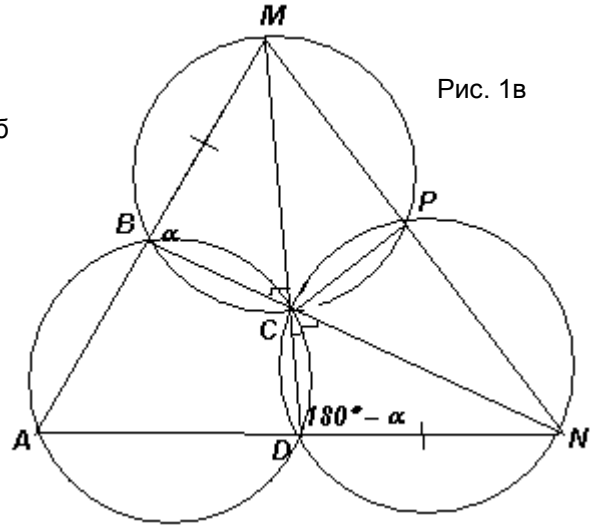


Рис. 1в

Вписанные углы  $CMN$  и  $CNM$  треугольника  $MCN$  опираются на равные дуги равных окружностей, поэтому эти углы равны. Следовательно,  $CM = CN$ .

Точка  $P$ , полученная в этом способе решения, называется точкой Микеля для прямых  $NA, NB, MA$  и  $MD$ . Через эту точку проходят также окружности, описанные около треугольников  $ANB$  и  $AMD$ .

**2.3.** На доске  $8 \times 8$  в углу расставлены 9 фишек в форме квадрата  $3 \times 3$ . Любая фишка может прыгать через другую фишку на свободную клетку (по горизонтали, вертикали или диагонали). Можно ли за некоторое количество прыжков расставить фишки в форме такого же квадрата в каком-либо другом углу доски?

**Ответ:** нет, нельзя.

**Решение.** Без ограничения общности можно считать, что фишки стоят в левом нижнем углу доски. Докажем, что в правых углах доски поставить фишки невозможно. Покрасим вертикали доски в черный и белый цвета, чередуя их (иначе говоря, «матрасиком», см. рис. 2). Заметим, что любой прыжок фишки не изменяет цвета вертикали, в которой она стояла. Изначально 6 фишек стояли в «черных» вертикалях, а 3 фишки – в «белых», а в конечной расстановке должно быть наоборот. Значит, такая расстановка невозможна.




Рис. 2

Для того, чтобы доказать, что фишки нельзя расставить в левом верхнем углу доски, надо «матрасиком» раскрасить горизонтали и провести аналогичное рассуждение.

Отметим, что для доказательства невозможности расстановки фишек в соседних углах доски хватает и «шахматной» раскраски.

**Третий тур (20 минут; каждая задача – 8 баллов).**

**3.1.** Решите систему уравнений: 
$$\begin{cases} \sin y - \sin x = x - y \\ \sin y - \sin z = z - y \\ x - y + z = \pi \end{cases}$$

**Ответ:**  $(\pi, \pi, \pi)$ .

**Решение.** Исходная система равносильна системе 
$$\begin{cases} \sin y + y = \sin x + x \\ \sin y + y = \sin z + z \\ x - y + z = \pi \end{cases}$$

Докажем, что функция  $f(t) = \sin t + t$  является возрастающей. Действительно, функция  $f(t)$  непрерывна и  $f'(t) = \cos t + 1 \geq 0$ . Кроме того, производная принимает значение 0 при  $t = \pi + 2k\pi, k \in \mathbb{Z}$ , то есть промежутков, на которых  $f'(t) = 0$ , не

существует. Следовательно, каждое свое значение функция  $f(t)$  принимает только при

$$\text{одном значении переменной. Тогда } \begin{cases} \sin y + y = \sin x + x \\ \sin y + y = \sin z + z \\ x - y + z = \pi \end{cases} \Leftrightarrow \begin{cases} y = x \\ y = z \\ x - y + z = \pi \end{cases} \Leftrightarrow x = y = z = \pi.$$

**3.2.** Точки  $D, E$  и  $F$  – середины сторон  $BC, AC$  и  $AB$  треугольника  $ABC$  соответственно. Через центры вписанных окружностей треугольников  $AEF, BDF$  и  $CDE$  проведена окружность. Докажите, что ее радиус равен радиусу окружности, описанной около треугольника  $DEF$ .

**Решение.** Заметим, что треугольник  $DEF$  подобен треугольнику  $ABC$  с коэффициентом  $k = 0,5$  (см. рис. 3). Обозначим центры вписанных окружностей треугольников  $AEF, BDF$  и  $CDE$  через  $A', B'$  и  $C'$  соответственно, тогда окружность, содержащая эти точки описана около треугольника  $A'B'C'$ .

Пусть  $I$  – центр вписанной окружности треугольника  $ABC$ . Треугольник  $AEF$  является образом треугольника  $ABC$  при гомотетии с центром  $A$  и коэффициентом  $k = 0,5$ , поэтому точка  $A'$  является образом точки  $I$  при этой гомотетии, значит,  $A'$  – середина отрезка  $AI$ . Аналогично, рассмотрев гомотетии с центрами  $B$  и  $C$  и коэффициентом  $k = 0,5$ , получим, что точки  $B'$  и  $C'$  – середины отрезков  $BI$  и  $CI$  соответственно. Следовательно, отрезки  $A'B', B'C'$  и  $C'A'$  – средние линии треугольников  $AIB, BIC$  и  $CIA$  соответственно. Таким образом, треугольник  $A'B'C'$  также подобен треугольнику  $ABC$  с коэффициентом  $k = 0,5$ . Значит треугольники  $A'B'C'$  и  $DEF$  равны, поэтому равны и радиусы окружностей, описанных около них.

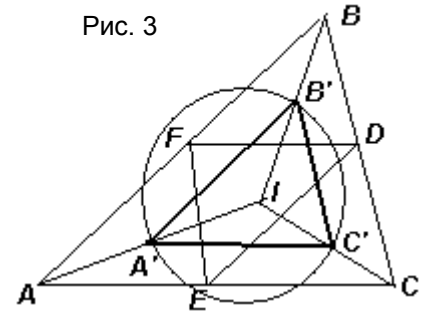


Рис. 3

*Для решения можно также использовать следующие факты: 1) окружность, описанная около треугольника  $DEF$ , является окружностью девяти точек треугольника  $ABC$ ; 2) стороны треугольника  $DEF$  соответственно параллельны сторонам треугольника  $ABC$ , так как равны радиусы вписанных окружностей треугольников  $AEF, BDF$  и  $CDE$ .*

**3.3.** На столе выложены в ряд 64 гирьки, причем масса двух любых соседних гирек отличается на 1 г. Требуется разложить гирьки на две кучки с равными массами и равным количеством гирь. Всегда ли это удастся?

**Ответ:** всегда.

**Решение.** Разобьем все гири на четверки гирь, стоящих подряд. Рассмотрим любую из этих четверок. Пусть масса первой гири равна  $m$ , тогда возможны следующие варианты масс четырех гирь (в граммах):

- 1)  $m, (m + 1), (m + 2), (m + 3)$  или  $m, (m - 1), (m - 2), (m - 3)$ ;
- 2)  $m, (m + 1), (m + 2), (m + 1)$  или  $m, (m - 1), (m - 2), (m - 1)$ ;
- 3)  $m, (m + 1), m, (m + 1)$  или  $m, (m - 1), m, (m - 1)$ ;
- 4)  $m, (m + 1), m, (m - 1)$  или  $m, (m - 1), m, (m + 1)$ .

В каждом из случаев четверка гирь разбивается на две пары с равной суммой масс. Действительно: 1), 3)  $I + IV = II + III$ ; 2), 4)  $I + III = II + IV$  (римскими цифрами обозначены массы гирь по порядку).

Следовательно, из каждой четверки можно положить две гири в одну кучку, а две другие – в другую кучку. Разбиение, осуществленное таким образом, будет искомым.

*Объяснить, что любая четверка гирь, стоящих подряд, разбивается на две пары с равными суммами масс можно и без разбора различных случаев: положим первые две гири в разные кучки (большую – в первую кучку, а меньшую – во вторую) и следующие две гири также положим в разные кучки, но наоборот (меньшую – в первую кучку, а большую – во вторую). Так как модуль разности между массами первой и второй гирь равен модулю разности между массами третьей и четвертой гирь, то такое разбиение будет искомым.*

**Четвертый тур (25 минут; каждая задача – 9 баллов).**

**4.1.** Существуют ли такие две функции с наименьшими положительными периодами 2 и 6, что их сумма имеет наименьший положительный период 3?

**Ответ:** да, существуют.

**Решение.** Пусть, например,  $f(x) = \cos \frac{2}{3}\pi x + \cos \pi x$ ,  $g(x) = -\cos \pi x$ , тогда  $h(x) = f(x) + g(x) = \cos \frac{2}{3}\pi x$ . Каждая из этих функций определена на множестве  $R$ .

Наименьший положительный период функции  $g(x)$  равен  $\frac{2\pi}{\pi} = 2$ , а наименьший положительный период функции  $h(x)$  равен  $\frac{2\pi}{\frac{2}{3}\pi} = 3$ . Докажем, что наименьший

положительный период функции  $f(x)$  равен 6.

Действительно, число 6 кратно 3 и 2, поэтому является как периодом функции  $y = \cos \frac{2}{3}\pi x$ , так и периодом функции  $y = \cos \pi x$ , значит, является и периодом их суммы.

Предположим, что существует такое число  $T$ , что  $0 < T < 6$ , которое также является периодом функции  $f(x)$ . Тогда для всех действительных значений  $x$  должно выполняться равенство  $\cos \frac{2}{3}\pi(x+T) + \cos \pi(x+T) = \cos \frac{2}{3}\pi x + \cos \pi x$ . При  $x = 0$  получим:  $\cos \frac{2}{3}\pi T + \cos \pi T =$

$$2 \Leftrightarrow \begin{cases} \cos \frac{2}{3}\pi T = 1, \\ \cos \pi T = 1 \end{cases} \Leftrightarrow \begin{cases} \frac{2}{3}\pi T = 2\pi k, k \in Z, \\ \pi T = 2\pi n, n \in Z \end{cases} \Leftrightarrow \begin{cases} T = 3k, k \in Z, \\ T = 2n, n \in Z \end{cases}. \text{ Следовательно, } 3k = 2n, \text{ то есть}$$

$k$  – четное число. Пусть  $k = 2m$ , где  $m \in Z$ , тогда  $T = 6m$ . Если  $m > 0$ , то  $6m \geq 6$ .

Полученное противоречие показывает, что у функции  $f(x)$  не может быть периода, меньшего, чем 6.

*Существуют и другие примеры.*

**4.2.** В тетраэдре  $ABCD$ :  $AB = 8$ ,  $BC = 10$ ,  $AC = 12$ ,  $BD = 15$ . Известно, что четыре отрезка, соединяющие вершины тетраэдра с центрами окружностей, вписанных в противоположные грани, пересекаются в одной точке. Найдите длины ребер  $DA$  и  $DC$ .

**Ответ:**  $DA = 18$ ,  $DC = 22,5$ .

**Решение.** Докажем, что если отрезки, соединяющие вершины тетраэдра  $ABCD$  с центрами вписанных окружностей противоположных граней пересекаются в одной точке, то равны произведения длин противоположных ребер тетраэдра, то есть  $DC \cdot AB = DB \cdot AC = DA \cdot BC$ .

Действительно, пусть отрезки  $DO_1$  и  $AO_2$ , где  $O_1$  и  $O_2$  – центры вписанных окружностей треугольников  $ABC$  и  $DBC$  пересекаются в точке  $N$  (см. рис. 4). Тогда точки  $A$ ,  $D$ ,  $O_1$  и  $O_2$  лежат в одной плоскости, поэтому прямые  $AO_1$  и  $DO_2$  пересекают ребро  $BC$  в одной и той же точке  $L$ . Так как  $AL$  и  $DL$  – биссектрисы треугольников  $ABC$  и  $DBC$ , то по свойству биссектрисы треугольника  $\frac{AB}{AC} = \frac{BL}{CL} = \frac{DB}{DC}$ . Следовательно,  $DC \cdot AB = DB \cdot AC$ .

Заменив, например,  $AO_2$  на  $BO_3$ , где  $O_3$  – центр вписанной окружности грани  $DBC$ , и проведя аналогичное рассуждение, получим требуемое двойное равенство.

*Отметим, что справедливо и утверждение, обратное доказанному.*

В нашем случае  $DB \cdot AC = 180$ , поэтому  $DA = 18$ ,  $DC = 22,5$ .

**4.3.** В равенстве  $x^5 + 2x + 3 = p^k$  числа  $x$  и  $k$  – натуральные. Может ли число  $p$  быть простым?

**Ответ:** нет, не может.

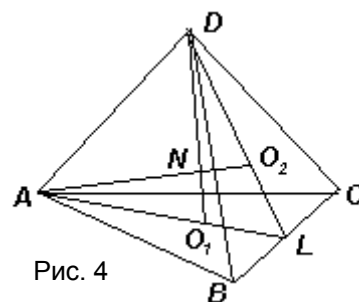


Рис. 4

**Решение.** Предположим, что  $p$  – простое число. Заметим, что  $x = -1$  – корень многочлена, стоящего в левой части равенства. Тогда этот многочлен можно представить в виде произведения, то есть записать исходное равенство в виде:  $(x + 1)(x^4 - x^3 + x^2 - x + 3) = p^k$ . При  $x = 1$  это равенство не выполняется ни при каких простых  $p$  и натуральных  $k$ , значит,  $x \geq 2$ . Следовательно, каждый множитель в левой части полученного равенства больше 1, причем второй множитель больше первого.

Если число  $p$  – простое, то  $x + 1 = p^a$ ,  $x^4 - x^3 + x^2 - x + 3 = p^b$ , где  $a$  и  $b$  – натуральные числа и  $b > a$ . Тогда  $x^4 - x^3 + x^2 - x + 3$  при каком-то натуральном значении  $x$  делится на  $x + 1$  без остатка, значит, остаток от деления многочлена  $P(x) = x^4 - x^3 + x^2 - x + 3$  на  $x + 1$  при таком  $x$  должен делиться на  $x + 1$ . По теореме Безу этот остаток равен  $P(-1)$ . Следовательно,  $P(-1) = 7$  делится на  $(x + 1)$ , то есть  $x = 6$ .

Подставив  $x = 6$  в исходное равенство, получим:  $7791 = p^k$ , но это невозможно, так как число 7791 не является простым и не является степенью простого (оно делится на 3, но не делится на 9).

### Пятый тур (15 минут; каждая задача – 7 баллов).

5.1. Найдите наименьшее значение дроби  $\frac{x}{y}$ , если  $\sqrt{x-1} + \sqrt{y-1} = 1$ .

**Ответ:** 0,5.

**Решение.** Из условия задачи следует, что  $\sqrt{y-1} = 1 - \sqrt{x-1} \geq 0$ , то есть  $\sqrt{x-1} \leq 1 \Leftrightarrow 1 \leq x \leq 2$ . Аналогично получим, что  $1 \leq y \leq 2$ . Тогда  $0,5 \leq \frac{1}{y} \leq 1$ , следовательно,  $0,5 \leq \frac{x}{y} \leq$

2. Значение  $\frac{x}{y} = 0,5$  достигается при  $x = 1$ ,  $y = 2$ , удовлетворяющих исходному равенству.

Оценив значения  $x$  и  $y$ , можно продолжить решение иначе, используя координатную плоскость. Заметим, что график заданного уравнения целиком лежит в квадрате  $ABCD$  (см. рис. 5).

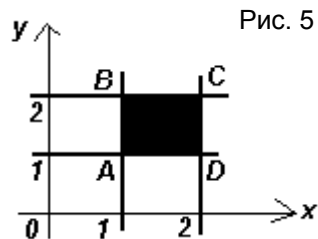


Рис. 5

Так как этот квадрат лежит в первой координатной четверти, то выражение  $\frac{x}{y}$  принимает наименьшее значение тогда и только тогда,

когда  $\frac{y}{x} = k$  принимает наибольшее значение. Таким образом, из всех прямых вида  $y = kx$ , где  $k > 0$ , надо выбрать прямую, пересекающую квадрат  $ABCD$  и имеющую наибольший угловой коэффициент. Этому условию удовлетворяет прямая  $OB$ , где  $B(1; 2)$ . График заданного уравнения содержит точку  $B$ , так как при подстановке ее координат в это уравнение получается верное числовое равенство. Следовательно, искомое наименьшее значение равно 0,5.

5.2. Правильный треугольник со стороной 1 разрезан произвольным образом на равносторонние треугольники, в каждый из которых вписан круг. Найдите сумму площадей этих кругов.

**Ответ:**  $\frac{\pi}{12}$ .

**Решение.** Так как все правильные треугольники подобны, то у них отношение площади вписанного круга к площади треугольника одно и то же, то есть  $\frac{S_1'}{S_1} = \frac{S_2'}{S_2} = \dots = \frac{S_n'}{S_n} = m$ , где в знаменателях дробей – площади  $n$  треугольников, полученных

при разбиении, а в числителях – площади соответствующих вписанных кругов. Тогда  $\sum_{k=1}^n S_k' = m \cdot \sum_{k=1}^n S_k = mS = S'$ , где  $S$  и  $S'$  – площади исходного треугольника и вписанного в него круга.

Так как радиус круга, вписанного в данный треугольник, равен  $\frac{\sqrt{3}}{6}$ , то его площадь равна  $\pi\left(\frac{\sqrt{3}}{6}\right)^2 = \frac{\pi}{12}$ .

**5.3.** Сумма цифр натурального числа  $n$  равна сумме цифр числа  $2n + 1$ . Могут ли быть равными суммы цифр чисел  $3n - 3$  и  $n - 2$ ?

**Ответ:** нет, не могут.

**Решение.** Воспользуемся тем, что любое натуральное число и его сумма цифр имеют одинаковые остатки от деления на 9. Следовательно, если у двух чисел одинаковые суммы цифр, то разность этих чисел делится на 9. Тогда из условия задачи следует, что  $(2n + 1) - n = n + 1$  делится на 9.

Предположим, что у чисел  $3n - 3$  и  $n - 2$  также одинаковые суммы цифр. Тогда  $(3n - 3) - (n - 2) = 2n - 1$  делится на 9. В этом случае на 9 должно делиться число  $(2n - 1) - (n + 1) = n - 2$ , но тогда и число  $(n + 1) - (n - 2) = 3$  также должно делиться на 9, что невозможно.

*Вторую часть рассуждений можно провести иначе. Из того, что  $n + 1$  делится на 9, следует, что  $n = 9k - 1$ , где  $k$  – натуральное число. Тогда  $3n - 3 = 27k - 6$ , а  $n - 2 = 9k - 3$ . Следовательно, при делении на 9 первое число дает остаток 3, а второе – остаток 6. Поэтому их суммы цифр не могут быть равными.*